

19

7. Работа с картой. Изучите приведенную ниже карту и ответьте на вопросы (15 баллов).

1. Какое сражение изображено на карте? Назовите даты начала и окончания этого сражения. (3 балла)
2. На какие два этапа можно разделить это сражение? Кратко охарактеризуйте каждый этап. (5 баллов)
3. Чем закончилось это сражение? Почему оно закончилось именно так? Ответ аргументируйте (приведите не менее 3-х аргументов). (4 балла)
4. Какие еще крупные сражения этой войны вы знаете? Назовите не менее трех. (3 балла)

1. На карте изображено Курская битва (5 июля - 3 августа 1943 г.)
 2. На первом этапе (июль) Красная армия отстояла от немецких войск на т.н. Курской дуге, затем не дав противнику вернуть позиции, нанесла мощные контрудары (Смолынский удар).
 На втором этапе (август) немецко-фашистские войска (сильно ослаб) Красная армия, измотав и истребив в окружении дивизии, вернула в

контрнаступление: в ходе операции «Удмурт» были разбиты войска противника, «Удмурт» на северном фланге, а также операция «Удмурт» и т.д.

3. Уражение закончилось победой Красной армии.

Аргументы:
1) Индустриальность руководства советских войск о гитлеровских наступлениях на северном фланге, в результате чего оборона на Южном фланге была прорвана.

2) Неустойчивые позиции немецких войск на наступлении.

3) Удаление кол-во резервов у Красной армии.

4) Другие сражения Великой Отечественной войны: битва за Москву, Сталинградская битва, операция «Земляника», битва за Харьков.

6. Перед вами текст, в котором допущены ошибки. Найдите в нем 7 ошибок и исправьте их (14 баллов).

В 1598 г. умер последний царь из династии Рюриковичей Федор Иоаннович, старший сына Ивана IV. После его смерти был созван Земский Собор, который избрал на царство Бориса Годунова, бывшего опричника и зятя Малюты Скуратова. Годунов не пользовался авторитетом как у бояр, так и у простого народа, который был недоволен введенным по его инициативе «правилом Юрьева дня». По этому правилу крестьянин мог переходить от одного владельца к другому только в Юрьев день – 27 апреля каждого года. Очень скоро народное недовольство переросло в восстание, которое возглавил Иван Болотников. Летом 1605 г. восставшие взяли Москву, свергли Годунова с престола и сделали царем самозванца Лжедмитрия I. Этот человек, настоящее имя которого Григорий Отрепьев, выдал себя за чудом спасшегося царевича Дмитрия - младшего сына Ивана IV. Опираясь на помощь поляков и Папы Римского, Лжедмитрий смог собрать армию и вступил в Москву. Несмотря на то, что восставшие крестьяне помогли Лжедмитрию стать царем, он приказал разоружить их войско и казнить Болотникова. Возмущенные таким предательским шагом, крестьяне вместе с москвичами в мае 1606 г. выступили против самозванца, схватили и убили его, труп сожгли, а пеплом выстрелили из пушки на запад – туда, откуда пришел Лжедмитрий. После этого новым царем был избран Михаил Романов.

1. Борис Годунов был зятем Ивана IV.
2. Исходя из устных и заведомых летних Юрьев день был запрещен еще до правления Годунова.
3. После смерти Лжедмитрия I царем стал Василий Шуйский.
4. Иван Болотников был зятем Малюты Скуратова.
5. Лжедмитрий I был убит не за восстановление в России су-за беззакония, а за восстановление в Москве.

собрали у себя много варягов и стали владеть землею полян. Рюрик же княжил в Новгороде».

1. Назовите источник, с фрагментом которого Вы ознакомились? (2 балла)
2. Кем и когда (с точностью до половины века) был создан этот источник? (3 балла)
3. В каком году от Рождества Христова происходили описанные события? (2 балла)
4. Опираясь на текст источника, опишите взаимоотношения славян и варягов в то время (не менее двух характеристик). (6 баллов)

1. Повести временных лет. 2
 2. Источник был создан монахом Нестором в начале XII века.
 3. В 862 году. 2
 4.

8. Рассмотрите предложенное ниже изображение исторического деятеля. Назовите представленного на нем человека, укажите время его жизни (с точностью до середины века). Обозначьте не менее двух направлений его деятельности, дайте их развернутую характеристику. Укажите результаты каждого из названных направлений деятельности (10 баллов).



Blank lined area for the answer to question 8.

| | | |
|--|---|------------------------|
| | <p>Сурожское Солжн-Пендр бура</p> | <p>1703г.</p> <p>2</p> |
| | <p>Три Степеде мас Купкен перед Купкен Три Купкен</p> | <p>1780г.</p> <p>2</p> |

5. Работа с текстом источника. Прочтите текст и ответьте на вопросы (13 баллов).

«В год 6370. Изгнали варяг за море, и не дали им дани, и начали сами собой владеть, и не было среди них правды, и встал род на род, и была у них усобица, и стали воевать друг с другом. И сказали себе: «Поищем себе князя, который бы владел нами и судил по праву». И пошли за море к варягам, к руси. Те варяги назывались русью, как другие называются шведы, а иные норманны и англы, а еще иные готландцы, — вот так и эти. Сказали руси чудь, словене, кривичи и весь: «Земля наша велика и обильна, а порядка в ней нет. Приходите княжить и владеть нами». И избрались трое братьев со своими родами, и взяли с собой всю русь, и пришли, и сел старший, Рюрик, в Новгороде, а другой, Синеус, — на Белоозере, а третий, Трувор, — в Изборске. И от тех варягов прозвалась Русская земля. Новгородцы же — те люди от варяжского рода, а прежде были словене. Через два же года умерли Синеус и брат его Трувор. И принял всю власть один Рюрик, и стал раздавать мужам своим города — тому Полоцк, этому Ростов, другому Белоозеро. Варяги в этих городах — находники, а коренное население в Новгороде — словене, в Полоцке — кривичи, в Ростове — меря, в Белоозере — весь, в Муроме — мурома, и над теми всеми властвовал Рюрик. И было у него два мужа, не родственники его, но бояре, и отпросились они в Царьград со своим родом. И отправились по Днепру, и когда плыли мимо, то увидели на горе небольшой город. И спросили: «Чей это городок?». Те же ответили: «Были три брата» Кий» Щек и Хорив, которые построили городок этот и сгинули, а мы тут сидим, их потомки, и платим дань хазарам». Аскольд же и Дир остались в этом городе,

9. Напишите небольшое сочинение по одной из выбранных тем. В сочинении необходимо рассказать о жизни Руси в указанный исторический период, упомянуть даты и имена деятелей, показать свое отношение к историческому периоду (20 баллов).



1. Киевский князь Святослав и его военные походы.
2. Письменность и литература в Древней Руси.
3. Господин Великий Новгород в XII – XV вв.
4. Борьба Руси с агрессией крестоносцев в XIII в.
5. Монголо-татарское иго и его последствия.
6. Эпоха Ивана IV Грозного.
7. Присоединение Сибири к России.
8. Как на Руси появилось крепостное право?
9. XVII век – «бунташный век».

3. Соотнесите имя правителя и историческое событие, в котором он участвовал (8 баллов).

| имя | событие |
|-----------------------|--|
| 1. Дмитрий Донской | А. Разгром Хазарского каганата |
| 2. Владимир I | Б. «Стояние на Угре» |
| 3. Иван I Калита | В. Строительство каменного кремля в Москве |
| 4. Иван III | Г. Крещение Руси |
| 5. Михаил Романов | Д. Опричнина |
| 6. Святослав Игоревич | Е. Окончательный разгром печенегов |
| 7. Ярослав Мудрый | Ж. Переезд митрополита из Владимира в Москву |
| 8. Иван IV Грозный | З. Смоленская война |

| 1 | 2 | 3 | 4 | 5 | 6 | 7 | 8 |
|---|---|---|---|---|---|---|---|
| В | Г | Ж | Б | З | А | Е | Д |

4. События русской истории нашли отражение в творчестве художников. Назовите события, которым посвящены эти картины, и обозначьте даты этих событий (с точностью до года) (8 баллов).

| картина | событие | дата |
|---|--------------------------------------|---------|
|  | Стояние на реке Угре Султан Ермак | 1584 г. |
|  | | |

**Олимпиада школьников
«Звезда – Таланты на службе обороны и безопасности» по истории
2014/2015уч.г.
6-7 класс**

1. Перед вами список битв, в которых принимала участие русская армия. Попробуйте выделить в нем 4 логические группы. Дайте объяснение, по какому принципу Вы отнесли то или иное событие в данную группу (8 баллов).

Куликовская битва, оборона Брестской крепости, оборона Козельска, битва на реке Березина, штурм Измаила, Бородинская битва, Курская битва, битва на реке Рымник, оборона Одессы, битва на Калке, битва у Малоярославца, битва при Фокшанах, Сталинградская битва, бой у Салтановки, битва на реке Кагул, битва на реке Воже.

8

1-я группа Куликовская битва, оборона Измаила, битва на Калке, битва на реке Воже 2

Объяснение сражения русско-монгольских войн.

2-я группа Штурм Измаила, битва на реке Рымник, битва при Фокшанах, битва на реке Кагул 2

Объяснение сражения русско-турецких войн

3-я группа битва на реке Березина, Бородинская битва, битва у Малоярославца, бой у Салтановки 2

Объяснение сражения Отечественной войны 1812 года

4-я группа Оборона Брестской крепости, Курская битва, оборона Одессы, Сталинградская битва 2

Объяснение сражения Великой Отечественной войны

2. Соотнесите реформу, имя реформатора и дату ее проведения (4 балла).

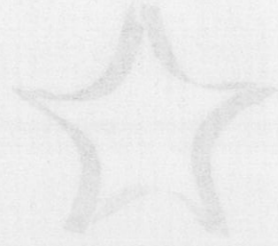
4

| | | |
|---|--------------------|-------------|
| А. Отмена крепостного права | 1. Иван IV Грозный | I 1700 г. |
| Б. Введение летосчисления от Рождества Христова | 2. С.Ю. Витте | II 1550 г. |
| В. Создание стрелецкого войска | 3. Петр I | III 1861 г. |
| Г. Введение золотого обеспечения рубля | 4. Александр II | IV 1897 г. |

| | | | |
|-----|----|----|----|
| А | Б | В | Г |
| 4. | 3. | 1. | 2. |
| III | I | IV | II |

Шифр
M-07-32

Олимпийская школа лыжников
«Звезда - Таланты на службе
обороне и безопасности»



РЕГИСТРАЦИОННЫЙ ЛИСТ УЧАСТНИКА

Предмет: Лыжные гонки

Фамилия: Сидоров

Имя: Александр

Отчество: Сергеевич

Область/республика/край/автономная область: Ленинградская

Город: Ленинград

Класс: С

Дата рождения (дд.мм.гггг): 10.01.1985

Паспортные данные: _____

Серия: _____ Номер: _____

Ком в какой выдан: _____

Номер телефона для связи: 812 412 3456

е-мэйл: _____

Согласен с использованием моих персональных данных в
областях ответственности

(подпись участника)

Регистрат

Подпись явного жюри
Сидорова О.И.
Сидорова О.И.