

465

**Олимпиада школьников  
«Звезда – Таланты на службе обороны и безопасности» по истории  
2014/2015уч.г.  
6-7 класс**

1. Перед вами список битв, в которых принимала участие русская армия. Попробуйте выделить в нем 4 логические группы. Дайте объяснение, по какому принципу Вы отнесли то или иное событие в данную группу (8 баллов).

Куликовская битва, оборона Брестской крепости, оборона Козельска, битва на реке Березина, штурм Измаила, Бородинская битва, Курская битва, битва на реке Рымник, оборона Одессы, битва на Калке, битва у Малоярославца, битва при Фокшанах, Сталинградская битва, бой у Салтановки, битва на реке Кагул, битва на реке Воже.

1-я группа 2, 3, 9, 13,

Объяснение по типу где они происходили: оборона города  
2-я группа 4, 8, 10, 15, 16.

Объяснение битвы при реках  
3-я группа 1, 6, 15, 16.

Объяснение битвы в крупных полях  
4-я группа 5, 7, 11, 12, 14.

Объяснение битвы у городов (сел)

45. 2. Соотнесите реформу, имя реформатора и дату ее проведения (4 балла).

А. Отмена крепостного права	1. Иван IV Грозный	I 1700 г.
Б. Введение летосчисления от Рождества Христова	2. С.Ю. Витте	II 1550 г.
В. Создание стрелецкого войска	3. Петр I	III 1861 г.
Г. Введение золотого обеспечения рубля	4. Александр II	IV 1897 г.



А	Б	В	Г
4	3	1	2
III	I	II	IV
+	+	+	+

45 3. Соотнесите имя правителя и историческое событие, в котором он участвовал (8 баллов).

имя	событие
1. Дмитрий Донской	А. Разгром Хазарского каганата
2. Владимир I	Б. «Стояние на Угре»
3. Иван I Калита	В. Строительство каменного кремля в Москве
4. Иван III	Г. Крещение Руси
5. Михаил Романов	Д. Опричнина
6. Святослав Игоревич	Е. Окончательный разгром печенегов
7. Ярослав Мудрый	Ж. Переезд митрополита из Владимира в Москву
8. Иван IV Грозный	З. Смоленская война

1	2	3	4	5	6	7	8
Б	Г	В	З	Ж	А	Е	Д

65 4. События русской истории нашли отражение в творчестве художников. Назовите события, которым посвящены эти картины, и обозначьте даты этих событий (с точностью до года) (8 баллов).

картина	событие	дата
		
	«Ледовое побоище». Битва на Чудском озере с рязанскими князьями.	1242 г.

Литературность и литература Древней Руси складывалась в 2 направления: древние сказания и предания древних народов, и литература из Византии. Так как Византия имела огромное влияние на Русь, то на Руси во последствии было много разных сочинений византийских авторов, ~~писанные~~ <sup>записанные</sup> христианские обычаи и т.д. Но тем не менее на Руси сохранились предания народов древней Руси, а также быльничьи и сказания. Они были про славных богатырей и других героев. Все это оказало влияние и на жизнь людей их быт и обычаи. В тех времена были известны и многие деятели, которые также влияли на развитие Руси.

46

теперь считали себя русскими), сформировался древнерусский язык, появились первый сборник законов, печенеги не препятствовали развитию Руси, были построены оборонные крепости, что сокращало риск нападения на Русь.



Основание  
Петром I  
Петербурга

1703г.

+

+



Поездка  
Пересвета  
с  
Челубеем.

1380г.

+

+

85 5. Работа с текстом источника. Прочтите текст и ответьте на вопросы (13 баллов).

«В год 6370. Изгнали варяг за море, и не дали им дани, и начали сами собой владеть, и не было среди них правды, и встал род на род, и была у них усобица, и стали воевать друг с другом. И сказали себе: «Поищем себе князя, который бы владел нами и судил по праву». И пошли за море к варягам, к руси. Те варяги назывались русью, как другие называются шведы, а иные норманны и англы, а еще иные готландцы, — вот так и эти. Сказали руси чудь, словене, кривичи и весь: «Земля наша велика и обильна, а порядка в ней нет. Приходите княжить и владеть нами». И избрались трое братьев со своими родами, и взяли с собой всю русь, и пришли, и сел старший, Рюрик, в Новгороде, а другой, Синеус, — на Белоозере, а третий, Трувор, — в Изборске. И от тех варягов прозвалась Русская земля. Новгородцы же — те люди от варяжского рода, а прежде были словене. Через два же года умерли Синеус и брат его Трувор. И принял всю власть один Рюрик, и стал раздавать мужам своим города — тому Полоцк, этому Ростов, другому Белоозеро. Варяги в этих городах — находники, а коренное население в Новгороде — словене, в Полоцке — кривичи, в Ростове — меря, в Белоозере — весь, в Муроме — мурома, и над теми всеми властвовал Рюрик. И было у него два мужа, не родственники его, но бояре, и отпросились они в Царьград со своим родом. И отправились по Днепру, и когда плыли мимо, то увидели на горе небольшой город. И спросили: «Чей это городок?». Те же ответили: «Были три брата» Кий» Щек и Хорив, которые построили городок этот и сгинули, а мы тут сидим, их потомки, и платим дань хазарам». Аскольд же и Дир остались в этом городе,

9. Напишите небольшое сочинение по одной из выбранных тем. В сочинении необходимо рассказать о жизни Руси в указанный исторический период, упомянуть даты и имена деятелей, показать свое отношение к историческому периоду (20 баллов).

1. Киевский князь Святослав и его военные походы.
2. Письменность и литература в Древней Руси.
3. Господин Великий Новгород в XII – XV вв.
4. Борьба Руси с агрессией крестоносцев в XIII в.
5. Монголо-татарское иго и его последствия.
6. Эпоха Ивана IV Грозного.
7. Присоединение Сибири к России.
8. Как на Руси появилось крепостное право?
9. XVII век – «бунташный век».

собрали у себя много варягов и стали владеть землею полян. Рюрик же княжил в Новгороде».

1. Назовите источник, с фрагментом которого Вы ознакомились? (2 балла)
2. Кем и когда (с точностью до половины века) был создан этот источник? (3 балла)
3. В каком году от Рождества Христова происходили описанные события? (2 балла)
4. Опираясь на текст источника, опишите взаимоотношения славян и варягов в то время (не менее двух характеристик). (6 баллов)

1. Это фрагмент летописи «Повесть временных лет».
2. Был создан летописцем Нестором в середине XII века.
3. Это произошло в 862 году от Рождества Христова.
5. 4. Отношения славян и варягов были не совсем хорошие и доброжелательные. Когда варяги пришли на Русь и смешались с местным населением, они постепенно стали занимать важные должности и чувствовать себя на земле славян хозяевами. Славянам это не понравилось, и как говорится в летописи, они выгнали их за море. Но из-за обычного строя они не могли объединиться в государство и выбрать шагу. Тогда им пришлось вновь пригласить варягов, но уже с мирными целями.

Отношения славян с варягами были не однозначны и изменчивы. В конце концов они снова, и уже навсегда в освободились от власти варягов и создали независимое государство.

8. Рассмотрите предложенное ниже изображение исторического деятеля. Назовите представленного на нем человека, укажите время его жизни (с точностью до середины века). Обозначьте не менее двух направлений его деятельности, дайте их развернутую характеристику. Укажите результаты каждого из названных направлений деятельности (10 баллов).



На рисунке изображен Ярослав Мудрый. Он жил в с начала XI века по вторую половину XI века. Годы правления 1019-1054 г. При этом киевском князе Русь достигла своего развития расцвета. Он развивал государство в 2 направлениях: укрепление и распространение христианства; завершение объединения Руси; и обороны от внешних врагов. Он был последователем Владимира, и также как он распространял христианство: открывал воскресные школы, строил множество храмов. Также, одно из самых главных его достижений, это то, что завершил объединение Руси: подчинил все народы, сформировал общество, образовывал русский язык. Помимо этого он занимался обороной государства, окончательно сокрушил печенегов. В результате, теперь большинство жителей Руси были христианами (что сильно укрепляло княжескую власть), появились многие красивые памятники культуры - храмы и церкви, Русь стала независимым государством, сформировалось русское общество (все, независимо от того, кто они были: словене, кривичи, древляне,

грамотной тактике русского командования.

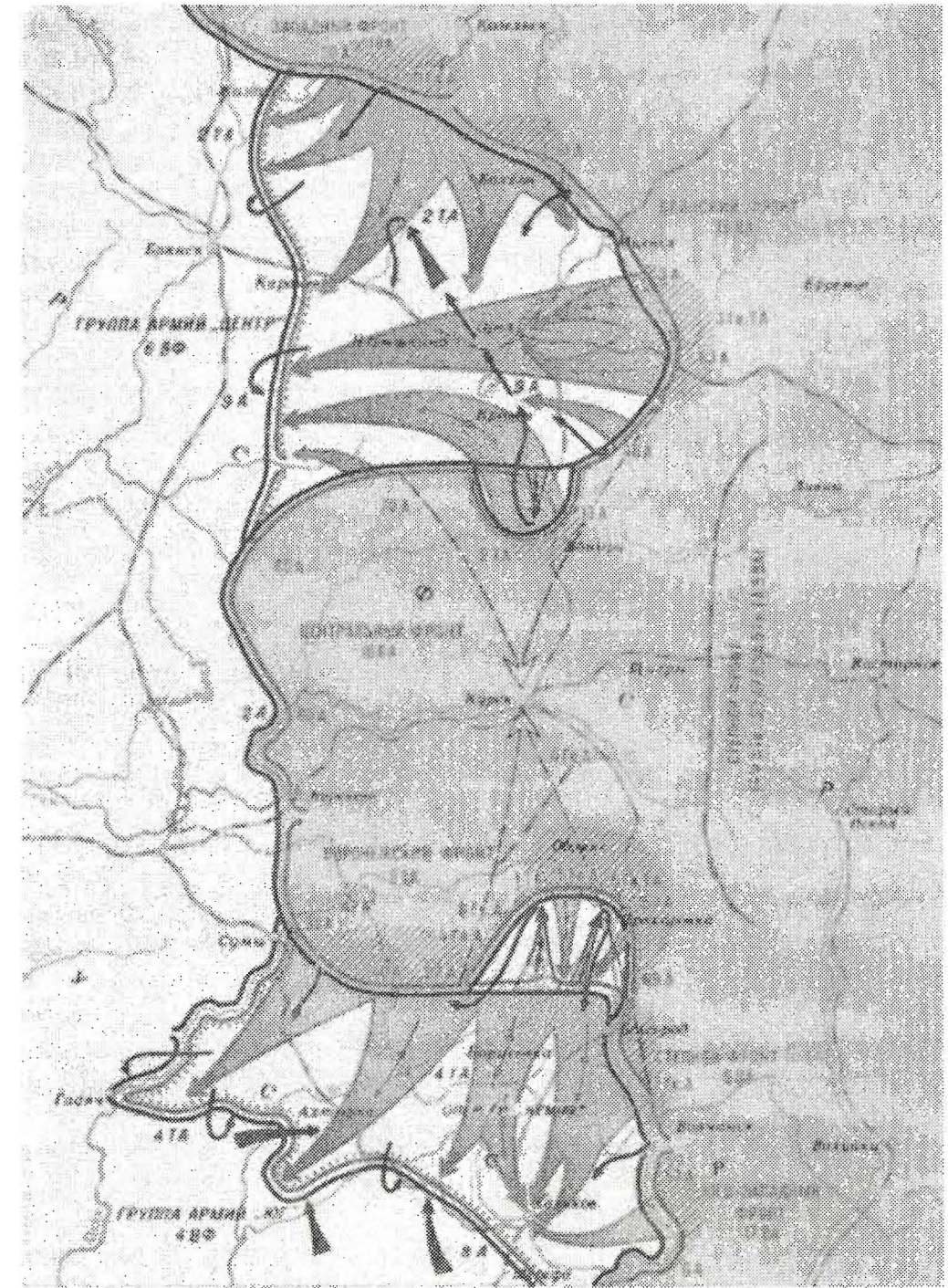
4. 1) Сталинградская битва
- 2) Ленинградская битва
- 3) Битва под Москвой
- 4) Битва за Берлин.

6. Перед вами текст, в котором допущены ошибки. Найдите в нем 7 ошибок и исправьте их (14 баллов).

В 1598 г. умер последний царь из династии Рюриковичей Федор Иоаннович, старший сына Ивана IV. После его смерти был созван Земский Собор, который избрал на царство Бориса Годунова, бывшего опричника и зятя Малюты Скуратова. Годунов не пользовался авторитетом как у бояр, так и у простого народа, который был недоволен введенным по его инициативе «правилом Юрьева дня». По этому правилу крестьянин мог переходить от одного владельца к другому только в Юрьев день – 27 апреля каждого года. Очень скоро народное недовольство переросло в восстание, которое возглавил Иван Болотников. Летом 1605 г. восставшие взяли Москву, свергли Годунова с престола и сделали царем самозванца Лжедмитрия I. Этот человек, настоящее имя которого Григорий Отрепьев, выдал себя за чудом спасшегося царевича Дмитрия - младшего сына Ивана IV. Опираясь на помощь поляков и Папы Римского, Лжедмитрий смог собрать армию и вступил в Москву. Несмотря на то, что восставшие крестьяне помогли Лжедмитрию стать царем, он приказал разоружить их войско и казнить Болотникова. Возмущенные таким предательским шагом, крестьяне вместе с москвичами в мае 1606 г. выступили против самозванца, схватили и убили его, труп сожгли, а пеплом выстрелили из пушки на запад – туда, откуда пришел Лжедмитрий. После этого новым царем был избран Михаил Романов.

7. Работа с картой. Изучите приведенную ниже карту и ответьте на вопросы (15 баллов).

1. Какое сражение изображено на карте? Назовите даты начала и окончания этого сражения. (3 балла)
2. На какие два этапа можно разделить это сражение? Кратко охарактеризуйте каждый этап. (5 баллов)
3. Чем закончилось это сражение? Почему оно закончилось именно так? Ответ аргументируйте (приведите не менее 3-х аргументов). (4 балла)
4. Какие еще крупные сражения этой войны вы знаете? Назовите не менее трех. (3 балла)



———— Линия фронта к началу наступления немецко-фашистских войск 15 июля  
 ———— Линия фронта к концу наступления немецко-фашистских войск 15 июля  
 ———— Линия фронта к началу наступления советских войск  
 ———— Линия фронта к концу наступления советских войск  
 ———— Направление удара противника  
 ———— Направление удара советских войск  
 ———— Контрольные точки противника  
 ———— Контрольные точки советских войск

- +
1. На карте изображено Курское сражение.
  2. а) Отступление русских войск и битва под Прохоровкой.  
 б) Наступление русских войск и продвижение на запад.
  3. Это сражение закончилось победой русских войск. Оно закончилось именно так благодаря