

Олимпиада школьников «Звезда – Таланты на службе обороны и безопасности» по истории 2014/2015уч.г. 6-7 класс

1. Перед вами список битв, в которых принимала участие русская армия. Попробуйте выделить в нем 4 логические группы. Дайте объяснение, по какому принципу Вы отнесли то или иное событие в данную группу (8 баллов).

Куликовская битва, оборона Брестской крепости, оборона Козельска, битва на реке Березина, штурм Измаила, Бородинская битва, Курская битва, битва на реке Рымник, оборона Одессы, битва на Калке, битва у Малоярославца, битва при Фокшанах, Сталинградская битва, бой у Салтановки, битва на реке Кагул, битва на реке Воже.

1-я группа Куликовская битва, оборона Козельска, битва на Калке, битва на реке Воже +

Объяснение Все эти битвы были во времена монгольского иго +

2-я группа Штурм Измаила, битва на реке Рымник, битва при Фокшанах, битва на реке Калке +

Объяснение Все эти события были во время русско-турецкой войны +

3-я группа битва на реке Березина, Бородинская битва, битва у Малоярославца +

Объяснение Все эти события были во время Отечественной войны 1812г +

4-я группа оборона Брестской крепости, Курская битва, оборона Одессы, Сталинградская битва, бой у Салтановки +

Объяснение Все эти события были во время Великой Отечественной войны +

2. Соотнесите реформу, имя реформатора и дату ее проведения (4 балла).

Table with 3 columns: Reforms (A-G), Reformers (1-4), and Dates (I-IV).

Handwritten matching table with columns A, B, B, Г and rows 4, III, I, II, IV and signs +.

Этап он не смог поначалу залаять жито так как поначалу погодой жито не давало жито. Как Батый не дойдя до Новгорода по ветру повернул обратно и по пути ему встретилась крепость Козельск которая оборонялась 2 месяца. После взятия города, Батый назвал его «земля городов» и сравнил с землей. Вернувшись в Валекские степи он собрал шаны и в 1239 году начал посыл на Юго-Восточную Русь. Начал он для разграблени Переяславль, Киев, пошел походом к Чернигову который он не смог окончательно взять. Затем он направился в Европу разграблени Венгрия, Польшу, Болгарию дошел до Адриатического моря и повернул обратно.

Последние последствия походов Батый. Во-первых, монгольское иго. Русь была обращена на 100 лет в прошлое. (!)

Во-вторых, потерявшая часть пошла в монгольские и было обременена платить дань. В-третьих, уменьшилась численность населения было потеряно.

8

4



3. Соотнесите имя правителя и историческое событие, в котором он участвовал (8 баллов).

ИМЯ	СОБЫТИЕ
1. Дмитрий Донской	А. Разгром Хазарского каганата
2. Владимир I	Б. «Стояние на Угре»
3. Иван I Калита	В. Строительство каменного кремля в Москве
4. Иван III	Г. Крещение Руси
5. Михаил Романов	Д. Опричнина
6. Святослав Игоревич	Е. Окончательный разгром печенегов
7. Ярослав Мудрый	Ж. Переезд митрополита из Владимира в Москву
8. Иван IV Грозный	З. Смоленская война

8

1	2	3	4	5	6	7	8
В	2	Ж	Б	З	А	Е	Г
+	+	+	+	+	+	+	+

4. События русской истории нашли отражение в творчестве художников. Назовите события, которым посвящены эти картины, и обозначьте даты этих событий (с точностью до года) (8 баллов).

картина	событие	дата
	Половцкое дело +	15
	Битва на Чудском озере + —	1242 +

4

~~Киевский князь Святослав и его воины победили~~
5 Монголо-татарское иго и его последствия.

В 1237 г. хан Батый расположившись вблизи устья реки Суры и стал собирать силы чтобы начать поход на Северо-Восточную Русь. В декабре хан Батый подошел к ~~Казань~~ Рязань и осадил ее. В течение 5 дней держалась Рязань на 6 валах. Враги в убийстве всех, не щадили ни детей, ни стариков, ни женщин. Дальше Батый направился в сторону Москвы. Перед Москвой была небольшая крепость Коломна ~~которую~~ ^у ~~и~~ ^{на} ~~которой~~ ^{была} ~~состояла~~ ^{стояла} битва. Утром этой битвы была плачевная: Русское войско разбито, Коломна, Москва и др. ряд небольших городов захвачены и разрушены, в этой битве погиб сын и внук Дмитрия. После Москвы Батый взял Владимир, Суздаль, Нижний Новгород. Затем Батый двинулся на Новгород, но перед ~~но~~ Новгородом Батый ~~должен~~ был задержаться в Торжке, который поставив в Новгород зерно. Две недели Монголы осаждали Тверь. Борьба эта города намерзшими ледяными каменными на городские воротах и стенах. Но всё же хан Батый сумел взять Торжок, при

собрали у себя много варягов и стали владеть землею полян. Рюрик же княжил в Новгороде».

1. Назовите источник, с фрагментом которого Вы ознакомились? (2 балла)
2. Кем и когда (с точностью до половины века) был создан этот источник? (3 балла)
3. В каком году от Рождества Христова происходили описанные события? (2 балла)
4. Опираясь на текст источника, опишите взаимоотношения славян и варягов в то время (не менее двух характеристик). (6 баллов)

3

1. Известие вращенных лет +
2. Известие летописцем (летопись) в XII веке +
3. В 840 происходили описанные события —
4. Сначала славянская дружина как и все дружины, но потом славяне не захотели чтобы ими правили варяги и просили их за море, но потом когда началась междоусобица, когда велик род на род, и славянская дружина потребовались люди, которые ими бы управляли. И пришли они и варягами дружин не ими управляли. —

8. Рассмотрите предложенное ниже изображение исторического деятеля. Назовите представленного на нем человека, укажите время его жизни (с точностью до середины века). Обозначьте не менее двух направлений его деятельности, дайте их развернутую характеристику. Укажите результаты каждого из названных направлений деятельности (10 баллов).

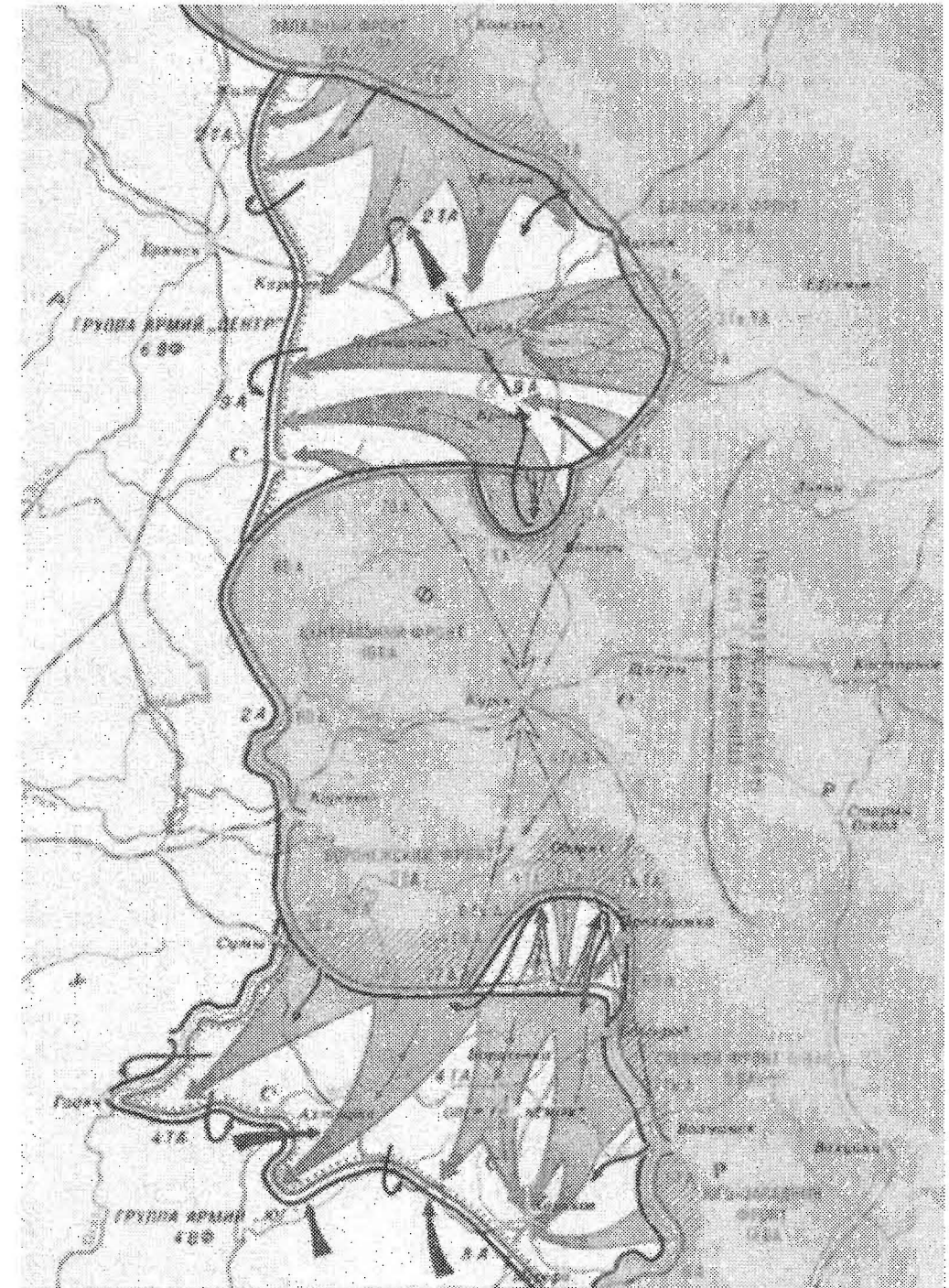


6

1. Ярослав мудрый (Ярослав) +
2. Два направления во внешнеполитической деятельности:
 - а) Окончательное освобождение Руси от рабства печенегов
 - б) Провели внешние связи с другими странами с помощью династических браков
 - в) В 1067 году состоялась битва под Киевом где Ярослав Мудрый разбил наголову печенегов. После этого печенегам перестали нападать на Русь
 - д) с помощью династических браков укрепил отношения с другими странами, такие как Германия, Англия, Норвегия, Швеция.

7. Работа с картой. Изучите приведенную ниже карту и ответьте на вопросы (15 баллов).

1. Какое сражение изображено на карте? Назовите даты начала и окончания этого сражения. (3 балла)
2. На какие два этапа можно разделить это сражение? Кратко охарактеризуйте каждый этап. (5 баллов)
3. Чем закончилось это сражение? Почему оно закончилось именно так? Ответ аргументируйте (приведите не менее 3-х аргументов). (4 балла)
4. Какие еще крупные сражения этой войны вы знаете? Назовите не менее трех. (3 балла)



Линия фронта к началу наступления немецко-фашистских войск (1 июля)
 Направление удара протанков
 Линия фронта к началу наступления советских войск (12 июля)
 Линия фронта к концу наступления советских войск (15 июля)
 Направление удара советских войск
 Направление удара немецко-фашистских войск

1 Курская битва (1943 год июль 16)
 2 Можно разделить на 2 этапа +
 а) Наступление немцев +
 б) контрнаступление советских войск +
 а) Наступление немцев было в направлении Харьков-Ленинград с севера и юга, немцы атаковали на отрывном участке фронта оборону советских войск

12