

14-11-37

1	5
2	4
3	5
4	7
5	0
6	2
7	0
8	2
9	X
10	5
11	15

450

Олимпиада школьников

«Звезда – Таланты на службе обороны и безопасности» по истории
2014/2015уч.г.

10-11 классы

1. Смена политического строя в России в 1917 г. привела к волне переименований городов и присвоения им имен советских политических деятелей и «одобряемых» деятелей культуры. Таким образом оформлялась идеологическая география СССР, без знания которой сложно уяснить себе особенности советской истории. При выполнении задания найдите правильные соответствия дореволюционных и советских названий городов (5 баллов).

Дореволюционное название города	Советское название города
1. Вятка	А. Горький
2. Владикавказ	Б. Калинин
3. Ижевск	В. Ломоносов
4. Нижний Новгород	Г. Орджоникидзе
5. Оренбург	Д. Устинов
6. Пермь	Е. Куйбышев
7. Тверь	Ж. Чкалов
8. Симбирск	З. Молотов
9. Ораниенбаум	И. Киров
10. Самара	К. Ульяновск

1	2	3	4	5	6	7	8	9	10
И	Г	А	А	Ж	З	Б	К	В	Е

2. Ниже перечислены понятия, которыми в прошлые эпохи обозначали различные блюда, предметы одежды и вооружения. Классифицируйте понятия по группам, ответ запишите в таблицу (5 баллов).




1. Епанча
2. Кистень
3. Охабень
4. Галантин
5. Леваш
6. Бармица
7. Саадак
8. Кика
9. Вязига

Одежда	Вооружение	Еда
1 4 6 8	2 3 9	4 5 8 9
+ - - +	+ -	+ + +

3. XIX век - время появления русского толстого журнала, который стал особым феноменом отечественной культуры. Перед Вами названия наиболее известных журналов, соотнесите их с именами издателей, редакторов (5 баллов).



10. Из предложенных ниже изображений выберите портрет одного исторического деятеля. Назовите представленного на нем человека, укажите время его жизни (с точностью до десятилетия). Обозначьте не менее трех направлений его деятельности, дайте их развернутую характеристику (5 баллов).



1.

2.

3.

25

1

1

1

⁺
А. Д. Сахаров (1921-1989 г.)

1. инициировал возвращение в СССР;

2. был вынужден отказаться от государственной деятельности. Ему присуждена Нобелевская премия мира;

3. В 1989 г. был избран народным депутатом СССР.

58



5. Выводы. Оценка эпохи дворцовых переворотов в России и ее результатов (максимально 3 балла).

Манифест «О вступлении на Всероссийский Престол Государыни Императрицы Елизаветы Петровны, и об учинении присяги»

Объявляем во всенародное известие. Как то всем уже чрез выданный в прошлом 1740 году в Октябре месяце 5 числа Манифест известно есть, что блаженная памяти от Великой Государыни Императрицы Анны Иоанновны, при кончине Ее, Наследником Всероссийского Престола учинен внук Ее Величества, которому тогда еще от рождения несколько месяцев только было, и для такого его младенчества правление Государственное чрез разные персоны и разными образы происходило, от чего уже как внешние, так и внутри Государства беспокойства и непорядки, и следовательно немалое же разорение всему Государству последовало б; того ради все Наши, как духовного, так и светского чинов верные подданные, а особливо Лейб-Гвардии Наши полки всеподданнейше и единогласно Нас просили, дабы Мы, для пресечения всех тех происшедших и впредь опасаемых беспокойств и непорядков, яко по крови ближняя, Отеческий Наш Престол Всемиловитейше воспрять соизволили, и по тому Нашему законному праву, по близости крови к Самодержавным Нашим вседражайшим Родителям, Государю Императору Петру Великому и Государыне Императрице Екатерине Алексеевне, и по их всеподданнейшему Наших верных единогласному прошению, тот Наш Отеческий Всероссийский Престол Всемиловитейше воспрять соизволили: о чем всем впредь с обстоятельством и с довольным изъяснением Манифест выдан будет; ныне же, по всеусердному всех Наших верноподданных желанию, Всемиловитейше соизволяем в том учинить Нам торжественную присягу.

Манифест «О вступлении на престол Государя Императора Петра III»

Да будет всякому ведомо, что по власти всемогущего Бога, любезная Наша Тетка, Государыня Императрица Елизавета Петровна, Самодержица Всероссийская, чрез жестокою болезн, от сего временного в вечное блаженство сего Декабря 25 дня отъиде, оставя Нам в Самодержавство прародительский Всероссийский Императорский престол, яко существу Наследнику по правам, преимуществам и узаконениям принадлежащий, в чем уже и все Наши верноподданные еще в прошлом 1742 году, яко истинному Российского престола Наследнику присягали; и потому Мы ныне восприяв Наш Всероссийский Императорский наследный Престол, Всемиловитейше повелеваем, сим Нашим манифестом всенародно объявить, что Мы ныне взошед, по Его праведным судьбам, на Всероссийский Наш наследный Императорский Престол посредством Нашей любезнейшей Тетки, Государыни Императрицы Елизаветы Петровны, которая, видя оной по смерти Императрицы Анны Иоанновны похищенным, за нужное и должное признала, помощью верных сынов Российских, возвратить праведным образом Всероссийский Императорский Престол и Нас по себе восприемником и истинным Наследником утвердила.

Мы, навькнув Ея Императорского Величества безприкладному великодушию в правительстве, за главное правило поставляем, владея Всероссийским Престолом, во всем подражать как Ея Величества щедротам и милосердию, так во всем последовать стопам премудрого Государя, Деда Нашего Императора Петра Великого, и тем восстановить благоденствие верноподданных Нам сынов Российских.

И дабы все как духовные, так и мирские о том ведали, и Нам, яко истинному и природному своему Государю Императору, верно и нелицемѣрно служили, и въ томъ присягами утвердили.

Манифест «О вступлении на Престол Императрицы Екатерины II»

3. народники 3 Энциклопедия, Герцен

4. декабристы 1 Ястреб, Муравьев - отомстил
(+1)




9. Перед вами четыре исторических источника – Манифесты о вступлении на престол императриц и императоров XVIII – начала XIX. Опираясь на предложенный ниже план, напишите небольшую работу на тему «Эпоха дворцовых переворотов в истории России». Обязательно обозначайте цифрами части работы, соответствующие пунктам плана, четко формулируйте положения своей работы и аргументируйте их с помощью текста источников (17 баллов).

План работы:

1. Постановка проблемы, краткая характеристика исторической ситуации в которой были созданы источники. Историкографические подходы к изучению истории дворцовых переворотов (максимально 3 балла).
2. Анализ представленных документов, как источников определенного вида. Оценка возможностей, которые они дают для освещения поставленной проблемы (максимально 2 балла).
3. Характеристика причин, приведших к дворцовым переворотам, и их интерпретация в Манифестах. Какие аргументы пришедшие к власти правители использовали для обоснования своего права на престол, оцените степень их убедительности в глазах подданных (максимально 4 балла).
4. Анализ программ, сформулированных в Манифестах. Были ли эти программы (идеи) реализованы в ходе царствования или нет и почему? (максимально 5 баллов).



1.




2.



3.



4.



5.



6.

1) А. Герасимов и другие, Берштин, Савинков
в перепечатке из Герасимовского



8. Перед Вами отрывки из программ политических организаций (партий). Укажите названия этих организаций и фамилии их лидеров. Из приведенных ниже изображений выберите те, которые связаны с деятельностью этих организаций. Назовите события, изображенные на выбранных Вами картинках (10 баллов).

А. Изъятие [земель] из частной собственности отдельных лиц и переход в общественное владение и в распоряжение демократически организованных общин и территориальных союзов общин и на началах уравнительного пользования... Расширение прав общин и территориальных их союзов по экспроприации частновладельческих земель; конфискация земель монастырских, удельных, кабинетских и т.п., и обращение их, равно как и государственных имуществ, на то же дело обеспечения общин достаточным количеством земли...

Б. Правовые народные воззрения признают несправедливым тот порядок, при котором земля находится во владении тех, которые ее не обрабатывает. По народному понятию, «земля божья» и каждый земледелец имеет право на землю в том количестве, которое он своим трудом может обработать. Поэтому мы должны требовать перехода всей земли в руки сельского рабочего сословия и равномерного ее распределения. (Мы убеждены, что две трети России будут владеть землею на общинном начале).

В. 1. Отмены выкупных и оброчных платежей, а также всяких повинностей, падающих в настоящее время на крестьянство, как на податное сословие.

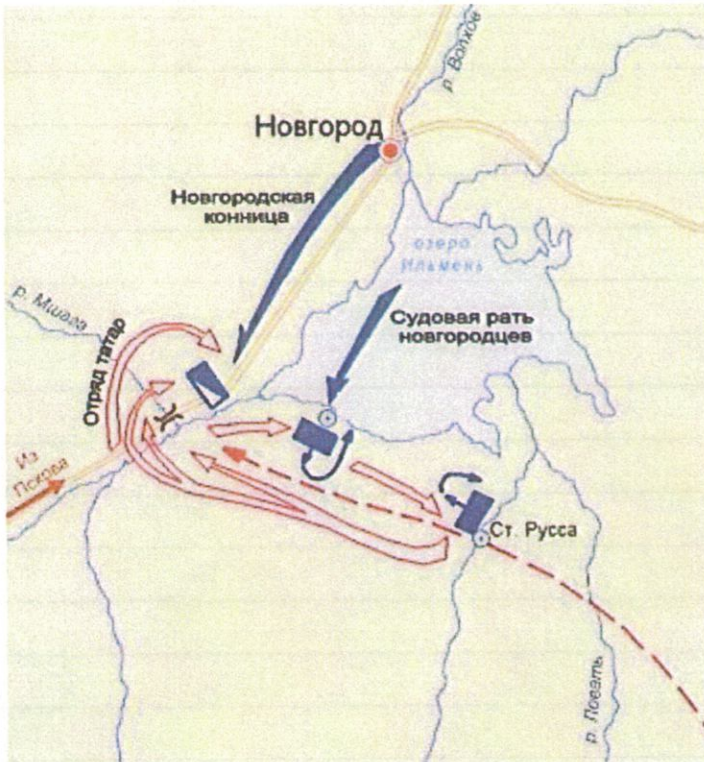
2. Отмены всех законов, стесняющих крестьянство в распоряжении его землей.

3. Возвращения крестьянам денежных сумм, взятых с них в форме выкупных и оброчных платежей; конфискации с этой целью монастырских и церковных имуществ, а также имений удельных, кабинетских и принадлежащих лицам царской фамилии, а равно обложения особым налогом земель землевладельцев-дворян, воспользовавшихся выкупной ссудой; обращения сумм, добытых этим путем, в особый народный фонд для культурных нужд и благотворительных нужд сельских обществ.

Г. Одна половина получит наименование земли общественной, другая земли частной. Земля общественная будет всему волостному обществу совокупно принадлежать и неприкосновенную его собственность составлять. Она ни продана, ни заложена быть не может. Она будет предназначена для доставления необходимого всем гражданам без изъятия и будет подлежать обладанию всех и каждого. Земли частные будут принадлежать казне или частным лицам, обладающим оными с полною свободою и право имеющим делать из оной, что им угодно. Сии земли, будучи предназначены для образования частной собственности, служить будут к доставлению изобилия.



1. Какое событие отображено на карте? Когда оно произошло (с точностью до месяца)? (2 балла)
2. Какие причины привели к данному событию? Назовите не менее трех причин. (3 балла)
3. Чем закончилось это событие? Оцените его историческое значение, указав не менее трех последствий (3 балла).
4. Назовите не менее двух известных вам участников этого события. (1 балл)



1. Битва у Шлиссбурга в июне 1556 года
2. стремление Ивана IV объединить Русь, сопротивление новгородцев; нежелание западных стран объединить Русь
3. Битва закончилась победой московитов
 - Новгород лишился своей республиканской формы правления
 - Большая часть Северо-Восточной Руси была объединена одной властью
 - Укрепившись предприняли падение ордынского политического контроля над Русью



6. Память об исторических событиях часто сохраняется в топонимике. В конце 1950-х годов в городах Советского Союза появились улицы, носящие название Фестивальная. Постарайтесь объяснить исторический смысл названия этих улиц, указав, в честь какого исторического события они были названы, датировать это событие (с точностью до года). Какое значение это событие имело для СССР, укажите не менее трех итогов. Дайте развернутую характеристику культурного развития СССР в этот период (6 баллов).

Причина этого — проведение фестиваля Дружбы Народов в 1958 году.

(+1)

Советское руководство таким образом стремилось поднять престиж СССР в мировой среде и привлечь к себе союзников, а также способствовать выводу потеплению отношений со странами НАТО

Советская культура переживала репрессии из-за вмешательства иностранных организаций, пришедших на фестиваль.

(+1)



От Нила до Невы, от Эльбы до Китая,
От Волги по Евфрат, от Ганга до Дуная...
Вот царство русское... и не пройдет вовек,
Как то провидел Дух и Даниил предрек.

1. Союз - Петербург и Землеметия
2. О единении славянства, возникшей в
средние годы девятнадцатого века. Судя
по тексту является Константина
Данилевский
3. 1. панславизм - идея создания единого
государства для всех славян мира
2. патристизм
3. три принципа Русского государства
- Православие, Самодержавие, Непредельность
созданное графом Сергеем Уваровым.



3. Азербайджанская Советская Социалистическая Республика
1923 г.

4. Латвийская Советская Социалистическая Республика
+1 1940 г. (41)

Сотрудничество Российской Федерации и Республики Беларусь:
политическое - договор о создании Сообщества Независимых
государств, договор о создании государства Россия-
Беларусь +1
экономическое - договор о свободной торговле +1
военное - договор о коллективной безопасности,
договор о вступлении в СНГ.

5. Внимательно прочитайте стихотворение Ф.И. Тютчева «Русская география» и
ответьте на вопросы (7 баллов).

1. Укажите названия городов, обозначенных в тексте цифрами 1 и 2. (1 балл)
2. О какой концепции идет речь в стихотворении, когда она возникла (с точностью до десятилетия) и кто является ее автором? (2 балла)
3. Назовите не менее двух положений этой концепции. (4 балла)

Москва, и град Петров [1], и Константинов град [2] —
Вот царства русского заветные столицы...
Но где предел ему? и где его границы —
На север, на восток, на юг и на закат?
Грядущим временам судьбы их обличат...

Семь внутренних морей и семь великих рек...



Название журнала	Издатели, редакторы
1. Вестник Европы	А. Надеждин Н.И.
2. Современник	Б. Погодин М.Н., Шевырев С.П., Киреевский И.В.
3. Москвитянин	В. Карамзин Н.М., Стасюлевич М.М.
4. Телескоп	Г. Пушкин А.С., Плетнев П.А., Некрасов Н.А.
5. Отечественные записки	Д. Свиньин П.П., Полевой Н.А., Краевский А.А.
	Е. Глинка С.Н., Греч Н.И.

1	2	3	4	5
В	Г	Б	А	Д
+	+	+	+	+

55

4. Перед Вами изображения гербов советских республик. Назовите эти республики и укажите год вхождения каждой из них в состав СССР. Перечислите не менее 3-х направлений сотрудничества Российской Федерации и бывшей советской республики, чей герб помещен под номером 2, в 1990-е годы. Ответ будет засчитываться, если будут указаны конкретные договоры, обеспечивающие это сотрудничество (11 баллов).

1.



2.



3.



4.



1. Киргизская Советская Социалистическая Республика 1924/31.
 (+) 2. Белорусская Советская Социалистическая Республика 1929г.

(+)

