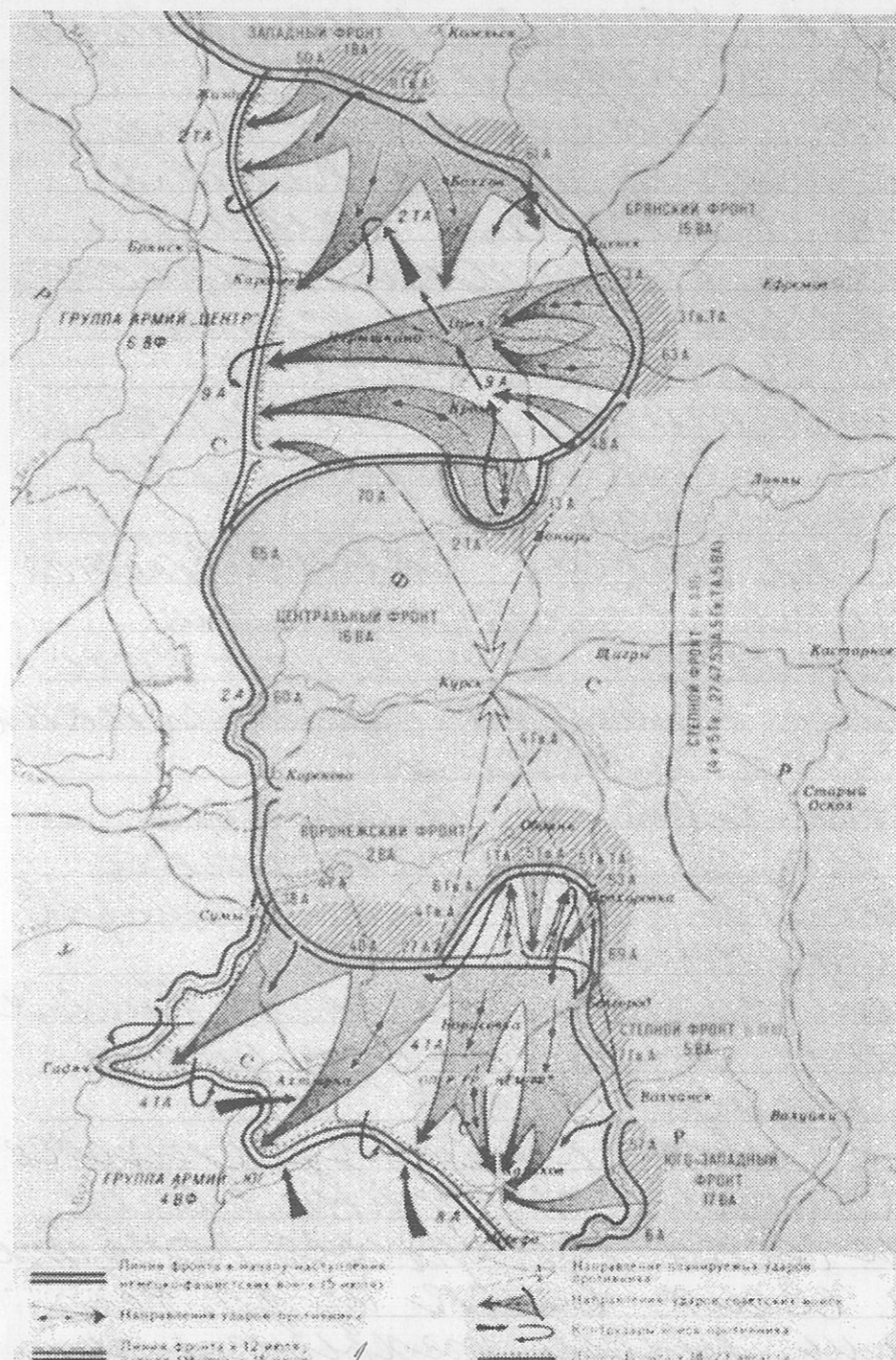


Поскольку восстания которые  
 произошли Иосифом Сталиным как  
 такового не было следовательно  
 казнь Болотникова и разгром  
 жерня войска крестьян тоже  
 7 Крестьяне с Москвичами  
 выступили против Иосифа Сталина  
 После того как их объединили  
 Ленин и Молотовские а не возмущен  
 ные казнь Болотникова



10

7. Работа с картой. Изучите приведенную ниже карту и ответьте на вопросы (15 баллов).

1. Какое сражение изображено на карте? Назовите даты начала и окончания этого сражения. (3 балла)
2. На какие два этапа можно разделить это сражение? Кратко охарактеризуйте каждый этап. (5 баллов)
3. Чем закончилось это сражение? Почему оно закончилось именно так? Ответ аргументируйте (приведите не менее 3-х аргументов). (4 балла)
4. Какие еще крупные сражения этой войны вы знаете? Назовите не менее трех. (3 балла)

Курская битва. Немцы подошли к  
 Курску в 1943 а Красная Армия  
 разгромила немецкие войска  
 в результате Группы Армии Цеттер  
 либо отступили либо были разгромле-  
 ны лишь в 1943 году

2. I этап немцы пытаются  
выблизиться к Курску с двух  
сторон свои войска тем  
самым образовать котёл

3. II этап Красная армия  
отсекает немецкие войска  
пытавшиеся окружить  
войска Центрального и  
Воронежского фронтов затем  
Красная армия переходит  
в наступление

2. 3. Это сражение охватывается  
переходом Красной армии  
в наступление в результате  
разгрома Немецко-армянских  
войск под Курском

1. Тактический фактор  
После неудачной попытки  
окружения стратегия немцев  
была переключена на прорыв

1. Психологический фактор Наши  
солдаты были некуда отступать  
позади Москва

3. Косн. Ближе к концу сраже-  
ния немцы предприняли  
тактически неверные попытки  
вывода своих войск из-за чего  
потеряли много техники и  
живой силы

4. Сталинградская битва,  
Битва под Москвой, Битва  
за Крым, Штурм Керченского  
(ныне Керченский)

6. Перед вами текст, в котором допущены ошибки. Найдите в нем 7 ошибок и исправьте их (14 баллов).

В 1598 г. умер последний царь из династии Рюриковичей Федор Иоаннович, старший сына Ивана IV. После его смерти был созван Земский Собор, который избрал на царство Бориса Годунова, бывшего опричника и зятя Малюты Скуратова. Годунов не пользовался авторитетом как у бояр, так и у простого народа, который был недоволен введенным по его инициативе «правилом Юрьева дня». По этому правилу крестьянин мог переходить от одного владельца к другому только в Юрьев день – 27 апреля каждого года. Очень скоро народное недовольство переросло в восстание, которое возглавил Иван Болотников. Летом 1605 г. восставшие взяли Москву, свергли Годунова с престола и сделали царем самозванца Лжедмитрия I. Этот человек, настоящее имя которого Григорий Отрепьев, выдал себя за чудом спасшегося царевича Дмитрия – младшего сына Ивана IV. Опираясь на помощь поляков и Папы Римского, Лжедмитрий смог собрать армию и вступил в Москву. Несмотря на то, что восставшие крестьяне помогли Лжедмитрию стать царем, он приказал разоружить их войско и казнить Болотникова. Возмущенные таким предательским шагом, крестьяне вместе с москвичами в мае 1606 г. выступили против самозванца, схватили и убили его, труп сожгли, а пеплом выстрелили из пушки на запад – туда, откуда пришел Лжедмитрий. После этого новым царем был избран Михаил Романов.

1. Федор Иоаннович не умер а был  
убит Самим Иваном IV в  
порыве гнева

2. На самом деле никакого  
Болотникова не было 3. Лжедмитрий  
сам вторгся на территорию Руси  
с войском поляков

4. Восстания крестьян не было

5. Велась война между Лжедмитрием  
и Борисом Годуновым в которой  
они оба померли и на смену  
Лжедмитрию I приходит Лжедмитрий II

собрали у себя много варягов и стали владеть землею полян. Рюрик же княжил в Новгороде».

1. Назовите источник, с фрагментом которого Вы ознакомились? (2 балла)
2. Кем и когда (с точностью до половины века) был создан этот источник? (3 балла)
3. В каком году от Рождества Христова происходили описанные события? (2 балла)
4. Опираясь на текст источника, опишите взаимоотношения славян и варягов в то время (не менее двух характеристик). (6 баллов)

1 Повесть временных лет 2  
 2 В 1113 году монахом по имени Нестор 3  
 311 век нашей эры 0  
 3 В 1113 году 0  
 Сначала Варяги завоевали славян и те платили им дань. Затем славяне изгнали варягов со своей земли и стали сами укрощать собой. Но из-за многих усобиц им пришлось пригласить варягов княжить над ними.

8. Рассмотрите предложенное ниже изображение исторического деятеля. Назовите представленного на нем человека, укажите время его жизни (с точностью до середины века). Обозначьте не менее двух направлений его деятельности, дайте их развернутую характеристику. Укажите результаты каждого из названных направлений деятельности (10 баллов).



5  
 1  
 Ярослав Мудрый (1635-1688)  
 Внутренняя политика  
 при нем построено много городов, школ и т.п. Вышел 2  
 при нем "Правда Ярослава" -  
 свод законов Руси. Внешняя  
 политика: способствование династиче-  
 ской бракам тем самым 2  
 укрепление同盟ения с другими  
 государствами.

Blank lined area for writing answers to the questions on the left page.

9. Напишите небольшое сочинение по одной из выбранных тем. В сочинении необходимо рассказать о жизни Руси в указанный исторический период, упомянуть даты и имена деятелей, показать свое отношение к историческому периоду (20 баллов).

1. Киевский князь Святослав и его военные походы.
2. Письменность и литература в Древней Руси.
3. Господин Великий Новгород в XII – XV вв.
4. Борьба Руси с агрессией крестоносцев в XIII в.
5. Монголо-татарское иго и его последствия.
6. Эпоха Ивана IV Грозного.
7. Присоединение Сибири к России.
8. Как на Руси появилось крепостное право?
9. XVII век – «бунташный век».

	<p>Освоившие города Землеподарки</p>	<p>1</p>
	<p>Куликовская Битва</p>	<p>1</p>

5. Работа с текстом источника. Прочтите текст и ответьте на вопросы (13 баллов).

«В год 6370. Изгнали варяг за море, и не дали им дани, и начали сами собой владеть, и не было среди них правды, и встал род на род, и была у них усобица, и стали воевать друг с другом. И сказали себе: «Поищем себе князя, который бы владел нами и судил по праву». И пошли за море к варягам, к руси. Те варяги назывались русью, как другие называются шведы, а иные норманны и англы, а еще иные готландцы, — вот так и эти. Сказали руси чудь, словене, кривичи и весь: «Земля наша велика и обильна, а порядка в ней нет. Приходите княжить и владеть нами». И избрались трое братьев со своими родами, и взяли с собой всю русь, и пришли, и сел старший, Рюрик, в Новгороде, а другой, Синеус, — на Белоозере, а третий, Трувор, — в Изборске. И от тех варягов прозвалась Русская земля. Новгородцы же — те люди от варяжского рода, а прежде были словене. Через два же года умерли Синеус и брат его Трувор. И принял всю власть один Рюрик, и стал раздавать мужам своим города — тому Полоцк, этому Ростов, другому Белоозеро. Варяги в этих городах — находники, а коренное население в Новгороде — словене, в Полоцке — кривичи, в Ростове — меря, в Белоозере — весь, в Муроме — мурома, и над теми всеми властвовал Рюрик. И было у него два мужа, не родственники его, но бояре, и отпросились они в Царьград со своим родом. И отправились по Днепру, и когда плыли мимо, то увидели на горе небольшой город. И спросили: «Чей это городок?». Те же ответили: «Были три брата» Кий» Щек и Хорив, которые построили городок этот и сгинули, а мы тут сидим, их потомки, и платим дань хазарам». Аскольд же и Дир остались в этом городе,

3. Соотнесите имя правителя и историческое событие, в котором он участвовал (8 баллов).



имя	событие
1. Дмитрий Донской	А. Разгром Хазарского каганата
2. Владимир I	Б. «Стояние на Угре»
3. Иван I Калита	В. Строительство каменного кремля в Москве
4. Иван III	Г. Крещение Руси
5. Михаил Романов	Д. Опричнина
6. Святослав Игоревич	Е. Окончательный разгром печенегов
7. Ярослав Мудрый	Ж. Переезд митрополита из Владимира в Москву
8. Иван IV Грозный	З. Смоленская война

5

1	2	3	4	5	6	7	8
З	Г	Ж	В	Б	А	Е	Д

4. События русской истории нашли отражение в творчестве художников. Назовите события, которым посвящены эти картины, и обозначьте даты этих событий (с точностью до года) (8 баллов).

4

картина	событие	дата
		
	Независимое событие	1212 г.

**Олимпиада школьников  
«Звезда – Таланты на службе обороны и безопасности» по истории  
2014/2015уч.г.**

6-7 класс

1. Перед вами список битв, в которых принимала участие русская армия. Попробуйте выделить в нем 4 логические группы. Дайте объяснение, по какому принципу Вы отнесли то или иное событие в данную группу (8 баллов).

Куликовская битва, оборона Брестской крепости, оборона Козельска, битва на реке Березина, штурм Измаила, Бородинская битва, Курская битва, битва на реке Рымник, оборона Одессы, битва на Калке, битва у Малоярославца, битва при Фокшанах, Сталинградская битва, бой у Салтановки, битва на реке Кагул, битва на реке Воже.

1-я группа Оборона Брестской крепости

Курская битва, оборона Одессы, Сталин-градская битва  
Объяснение II мировая война (Велико-отечественная)

2-я группа \_\_\_\_\_

Объяснение \_\_\_\_\_

3-я группа \_\_\_\_\_

Объяснение \_\_\_\_\_

4-я группа \_\_\_\_\_

Объяснение \_\_\_\_\_

2. Соотнесите реформу, имя реформатора и дату ее проведения (4 балла).

А. Отмена крепостного права	1. Иван IV Грозный	I 1700 г.
Б. Введение летосчисления от Рождества Христова	2. С.Ю. Витте	II 1550 г.
В. Создание стрелецкого войска	3. Петр I	III 1861 г.
Г. Введение золотого обеспечения рубля	4. Александр II	IV 1897 г.

А	Б	В	Г
4	2	1	3
III	IV	II	I

1 1