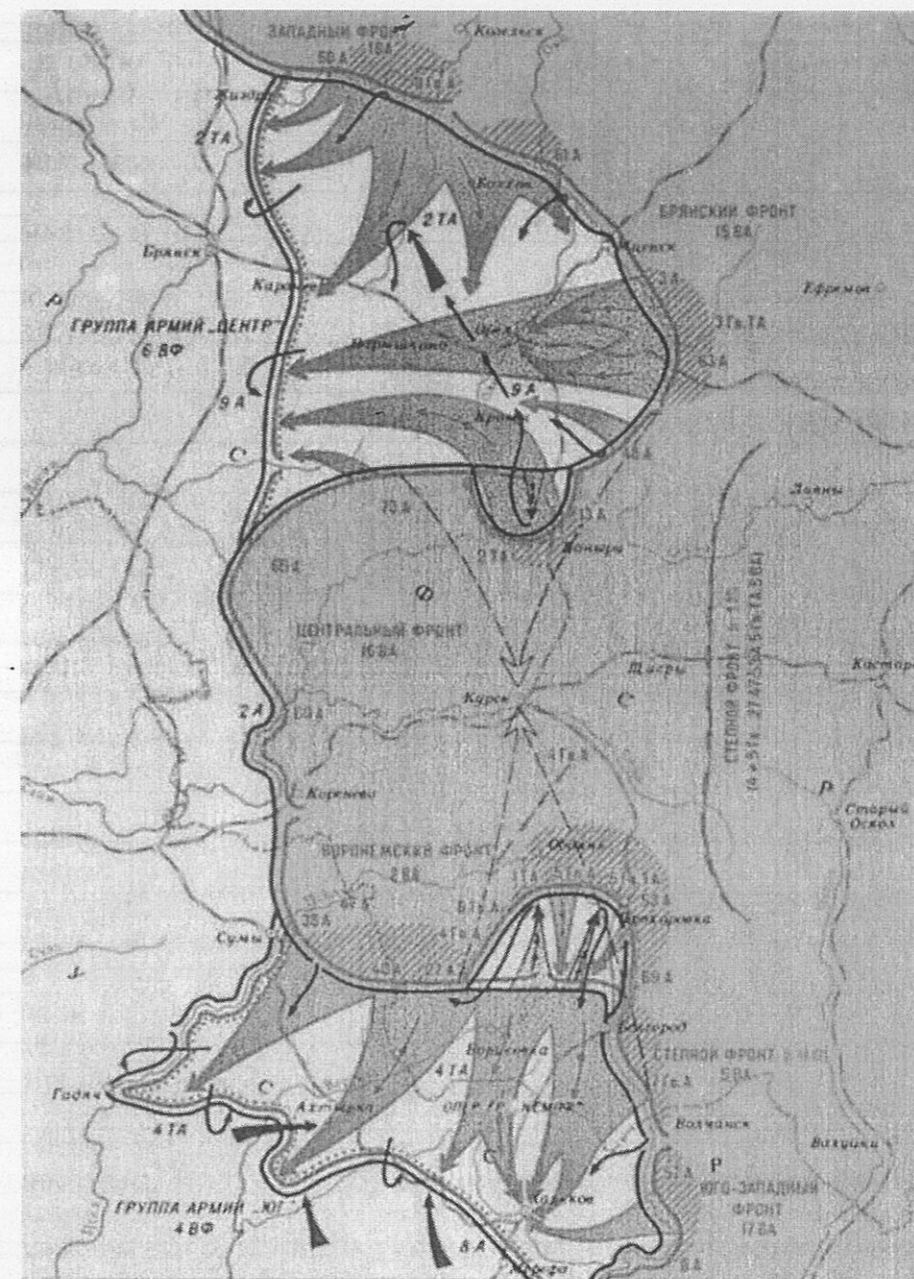


50. 7. Работа с картой. Изучите приведенную ниже карту и ответьте на вопросы (15 баллов).

1. Какое сражение изображено на карте? Назовите даты начала и окончания этого сражения. (3 балла)
2. На какие два этапа можно разделить это сражение? Кратко охарактеризуйте каждый этап. (5 баллов)
3. Чем закончилось это сражение? Почему оно закончилось именно так? Ответ аргументируйте (приведите не менее 3-х аргументов). (4 балла)
4. Какие еще крупные сражения этой войны вы знаете? Назовите не менее трех. (3 балла)



———— Линия фронта в начале наступления немецко-фашистских войск (5 июля)
 ———— Линия фронта к 12 июля, южнее Обояни - к 15 июля
 ———— Линия фронта к 18-23 августа
 ———— Направление ударов противника
 ———— Направление планируемых ударов противника
 ———— Направление ударов советских войск
 ———— Контрудары войск противника

18.1. Курская битва
 18.3. Это закончилось победой советских войск
 18.4. Сталинградская битва, оборона Севастополя, оборона Вуерса,
 оборона Брестской крепости.

36 6. Перед вами текст, в котором допущены ошибки. Найдите в нем 7 ошибок и исправьте их (14 баллов).

В 1598 г. умер последний царь из династии Рюриковичей Федор Иоаннович, старший сына Ивана IV. После его смерти был созван Земский Собор, который избрал на царство Бориса Годунова, бывшего опричника и зятя Малюты Скуратова. Годунов не пользовался авторитетом как у бояр, так и у простого народа, который был недоволен введенным по его инициативе «правилом Юрьева дня». По этому правилу крестьянин мог переходить от одного владельца к другому только в Юрьев день – 27 апреля каждого года. Очень скоро народное недовольство переросло в восстание, которое возглавил Иван Болотников. Летом 1605 г. восставшие взяли Москву, свергли Годунова с престола и сделали царем самозванца Лжедмитрия I. Этот человек, настоящее имя которого Григорий Отрепьев, выдал себя за чудом спасшегося царевича Дмитрия – младшего сына Ивана IV. Опираясь на помощь поляков и Папы Римского, Лжедмитрий смог собрать армию и вступил в Москву. Несмотря на то, что восставшие крестьяне помогли Лжедмитрию стать царем, он приказал разоружить их войско и казнить Болотникова. Возмущенные таким предательским шагом, крестьяне вместе с москвичами в мае 1606 г. выступили против самозванца, схватили и убили его, труп сожгли, а пеплом выстрелили из пушки на запад – туда, откуда пришел Лжедмитрий. После этого новым царем был избран Михаил Романов.

1. Борис Годунов не был зятем Малюты Скуратова.
- + 2. Борис Годунов не вводил Юрьев день.
- + 3. Болотников не свергнул с престола Годунова.
4. Лжедмитрий I не казнил Болотникова.
- + 5. Лжедмитрия I убили по другой причине – боялись что он – самозванец.
6. Жители не узнали про Лжедмитрия II и Василия Шуйского.
- 7. Михаил Романов был избран царем не в 1606 г. а в 1613 г.

Эпоха Ивана IV Грозного.

Период правления Ивана IV Грозного с 1535-х по 1580-е годы. Он был первым из правителей России, который венчался на царство. Иван он это в возрасте 17 лет. Также во время его правления впервые был созван Земский собор. Одним из крепостных право стало место: раньше крестьянин мог перебежать от одного хозяина к другому за неделю до и неделю после Юрьев дня, теперь же он мог менять хозяина только в Юрьев день и еще увеличилась плата хозяину за уход от него. Еще увеличилась территория страны: покорение Сибири, приведение в Казанское ханство и взятие Казани и т.д. Также произошло Сурожское войско в 1550 году. Но потом была Ливонская и Ливонская война, Иван IV был очень жестоко почитаем, за это и был прозван Грозным.

В итоге в начале правления Ивана IV государство увеличилось географически, но в конце его правления, после разорительной Ливонской войны (которая принесла России никакой не принесла) и Сурожским войском государство было разорено, это и привело к Смуте.

156.

9. Напишите небольшое сочинение по одной из выбранных тем. В сочинении необходимо рассказать о жизни Руси в указанный исторический период, упомянуть даты и имена деятелей, показать свое отношение к историческому периоду (20 баллов).

1. Киевский князь Святослав и его военные походы.
2. Письменность и литература в Древней Руси.
3. Господин Великий Новгород в XII – XV вв.
4. Борьба Руси с агрессивными крестоносцами в XIII в.
5. Монголо-татарское иго и его последствия.
6. Эпоха Ивана IV Грозного.
7. Присоединение Сибири к России.
8. Как на Руси появилось крепостное право?
9. XVII век – «бунташный век».

об

8. Рассмотрите предложенное ниже изображение исторического деятеля. Назовите представленного на нем человека, укажите время его жизни (с точностью до середины века). Обозначьте не менее двух направлений его деятельности, дайте их развернутую характеристику. Укажите результаты каждого из названных направлений деятельности (10 баллов).



- Исходо изображен Владимир Мономах. Он жил в XIV веке

направления деятельности

внутренняя политика



внешняя политика



58 3. Соотнесите имя правителя и историческое событие, в котором он участвовал (8 баллов).

имя	событие
1. Дмитрий Донской	А. Разгром Хазарского каганата
2. Владимир I	Б. «Стояние на Угре»
3. Иван I Калита	В. Строительство каменного кремля в Москве
4. Иван III	Г. Крещение Руси
5. Михаил Романов	Д. Опричнина
6. Святослав Игоревич	Е. Окончательный разгром печенегов
7. Ярослав Мудрый	Ж. Переезд митрополита из Владимира в Москву
8. Иван IV Грозный	З. Смоленская война

1	2	3	4	5	6	7	8
5	2	6	ж	3	а	е	9

68 4. События русской истории нашли отражение в творчестве художников. Назовите события, которым посвящены эти картины, и обозначьте даты этих событий (с точностью до года) (8 баллов).

картина	событие	дата
	покорение Сибири Ермаком	-
	лежбовое побоище	1242

	строительство Санкт-Петербурга	1703г.
	Куликовская битва	-

38 5. Работа с текстом источника. Прочтите текст и ответьте на вопросы (13 баллов).

«В год 6370. Изгнали варяг за море, и не дали им дани, и начали сами собой владеть, и не было среди них правды, и встал род на род, и была у них усобица, и стали воевать друг с другом. И сказали себе: «Поищем себе князя, который бы владел нами и судил по праву». И пошли за море к варягам, к руси. Те варяги назывались русью, как другие называются шведы, а иные норманны и англй, а еще иные готландцы, — вот так и эти. Сказали руси чудь, словене, кривичи и весь: «Земля наша велика и обильна, а порядка в ней нет. Приходите княжить и владеть нами». И избрались трое братьев со своими родами, и взяли с собой всю русь, и пришли, и сел старший, Рюрик, в Новгороде, а другой, Синеус, — на Белоозере, а третий, Трувор, — в Изборске. И от тех варягов прозвалась Русская земля. Новгородцы же — те люди от варяжского рода, а прежде были словене. Через два же года умерли Синеус и брат его Трувор. И принял всю власть один Рюрик, и стал раздавать мужам своим города — тому Полоцк, этому Ростов, другому Белоозеро. Варяги в этих городах — находники, а коренное население в Новгороде — словене, в Полоцке — кривичи, в Ростове — меря, в Белоозере — весь, в Муроме — мурома, и над теми всеми властвовал Рюрик. И было у него два мужа, не родственники его, но бояре, и отпросились они в Царьград со своим родом. И отправились по Днепру, и когда плыли мимо, то увидели на горе небольшой город. И спросили: «Чей это городок?». Те же ответили: «Были три брата» Кий» Щек и Хорив, которые построили городок этот и сгинули, а мы тут сидим, их потомки, и платим дань хазарам». Аскольд же и Дир остались в этом городе,

собрали у себя много варягов и стали владеть землею полян. Рюрик же княжил в Новгороде».

1. Назовите источник, с фрагментом которого Вы ознакомились? (2 балла)
2. Кем и когда (с точностью до половины века) был создан этот источник? (3 балла)
3. В каком году от Рождества Христова происходили описанные события? (2 балла)
4. Опираясь на текст источника, опишите взаимоотношения славян и варягов в то время (не менее двух характеристик). (6 баллов)

+ 1. Известие временных лет
 - 3. Описанные в тексте события происходили в 860-880х годах.
 + 2. Кестер



478

P-07-4

1

**Олимпиада школьников
 «Звезда – Таланты на службе обороны и безопасности» по истории
 2014/2015уч.г.
 6-7 класс**

68. 1. Перед вами список битв, в которых принимала участие русская армия. Попробуйте выделить в нем 4 логические группы. Дайте объяснение, по какому принципу Вы отнесли то или иное событие в данную группу (8 баллов).

Куликовская битва, оборона Брестской крепости, оборона Козельска, битва на реке Березина, штурм Измаила, Бородинская битва, Курская битва, битва на реке Рымник, оборона Одессы, битва на Калке, битва у Малоярославца, битва при Фокшанах, Сталинградская битва, бой у Салтановки, битва на реке Кагул, битва на реке Воже.

- + 1-я группа: оборона Брестской крепости, Курская битва, оборона Одессы, Сталинградская битва
- + Объяснение эти битвы были в Великую Отечественную Войну (1941-1945)
- + 2-я группа битвы при Измаиле, битва на реке Рымник, битва при Фокшанах
- + Объяснение битвы были во время правления Екатерины II (1762-1796)
- + 3-я группа Куликовская битва, битва на Калке, битва на р. Воже, оборона Козельска
- + Объяснение битвы были во время татаро-монгольского нашествия
- 4-я группа Бородинская битва
- Объяснение битва были во время Отечественной войны 1812 года.

48. 2. Соотнесите реформу, имя реформатора и дату ее проведения (4 балла).

А. Отмена крепостного права	1. Иван IV Грозный	I 1700 г.
Б. Введение летосчисления от Рождества Христова	2. С.Ю. Витте	II 1550 г.
В. Создание стрелцкого войска	3. Петр I	III 1861 г.
Г. Введение золотого обеспечения рубля	4. Александр II	IV 1897 г.

А	Б	В	Г
+	+	+	+
4	3	1	2
III	I	II	IV